

入学試験問題

(A日程)

社 会

注 意

- 1 「開始」の合図があるまで開いてはいけません。
- 2 「開始」の合図で、1 ページから 23 ページまで問題が印刷されていることを確かめなさい。
- 3 **解答用紙に受験番号**を書きなさい。名前を書いてはいけません。
- 4 答えはすべて**解答用紙の指定された解答欄**に書きなさい。問題用紙に書いても得点になりません。
- 5 問題は 6 題で、23 ページまであります。解答用紙はこの表紙の裏にあります。
- 6 「終了」の合図で、すぐに筆記用具を置きなさい。
- 7 問題および解答用紙は机の上に置き、持ち帰ってはいけません。

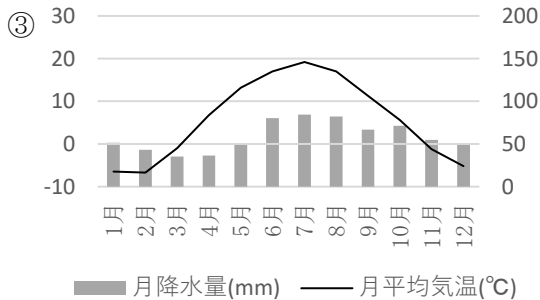
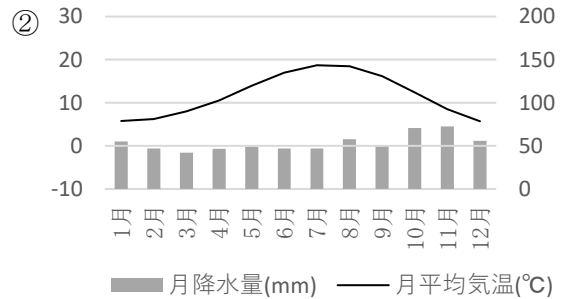
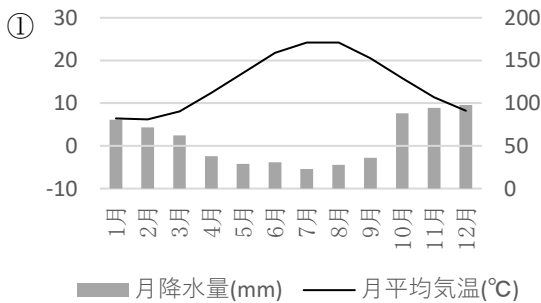
1 次の文章を読み、文章中に出てくる国や都市に関する、あとの問いに答えなさい。

2020年は新型コロナウイルスの感染拡大により、世界中の経済が打撃を受けました。なかでも、旅行業界や観光業界は損害が大きかった業界のひとつといえるでしょう。

関西国際空港では、2019年にカトマンズ（ネパール）、ロンドン（イギリス）、シアトル（アメリカ合衆国）、ミュンヘン（ドイツ）への直行便、2020年にはイスタンブール（トルコ）、チューリッヒ（スイス）、モスクワ（ロシア連邦）、ドーハ（カタール）への直行便が、新規就航及び再就航することとなっていました。関西と前述の都市が直行便で結ばれることから、旅行会社ではパッケージツアーを組んでいたようですが、新型コロナの感染拡大による渡航制限により、ほとんどが中止となりました。

気軽に旅行をできるようになるには、もう少し時間がかかるかもしれません。渡航制限が解除されたら、みなさんはどこへ行きたいですか。

(1) 次の雨温図は、ロンドン、イスタンブール、モスクワのものです。雨温図①～③と、都市名の組み合わせとして正しいものを、次ページのア～カから1つ選び、記号で答えなさい。



『2020 データブック オブ・ザ・ワールド』より作成

| | ① | ② | ③ |
|---|---------|---------|---------|
| ア | ロンドン | イスタンブール | モスクワ |
| イ | ロンドン | モスクワ | イスタンブール |
| ウ | イスタンブール | ロンドン | モスクワ |
| エ | イスタンブール | モスクワ | ロンドン |
| オ | モスクワ | ロンドン | イスタンブール |
| カ | モスクワ | イスタンブール | ロンドン |

(2) 次の表は、日本、イギリス、スイス、ドイツ、アメリカの食料自給率(%)です。ドイツにあてはまるものを、表中の**ア～エ**から1つ選び、記号で答えなさい。

| | 日本 | ア | イ | ウ | エ |
|--------|----|-----|-----|----|-----|
| 穀類 | 28 | 113 | 42 | 86 | 127 |
| いも類 | 74 | 117 | 75 | 75 | 96 |
| 牛乳・乳製品 | 60 | 123 | 102 | 81 | 104 |
| 肉類 | 52 | 114 | 80 | 69 | 116 |
| 卵類 | 96 | 71 | 54 | 88 | 105 |
| 魚介類 | 52 | 24 | 2 | 55 | 70 |

『2020 データブック オブ・ザ・ワールド』より作成

(3) 次の表は、ぶどう、小麦、ジュートの生産量上位6か国を示したものです。表中の**ア～エ**は、トルコ、ロシア、アメリカ、ネパールを表しています。トルコにあてはまるものを、**ア～エ**から1つ選び、記号で答えなさい。

| | ぶどう | 小麦 | ジュート |
|----|----------|----------|----------|
| 1位 | 中国 | 中国 | インド |
| 2位 | イタリア | インド | バングラデシュ |
| 3位 | ア | ウ | 中国 |
| 4位 | フランス | ア | ウズベキスタン |
| 5位 | スペイン | フランス | エ |
| 6位 | イ | オーストラリア | 南スーダン |

『2020 データブック オブ・ザ・ワールド』より作成

- (4) 次の表は、トルコ、ネパール、イギリス、ドイツにおける在留邦人数（現地に暮らす日本人の人数）と、該当国にある日本人学校数を示したものです。トルコにあてはまるものを、ア～エから1つ選び、記号で答えなさい。

| | 在留邦人数(人) | 日本人学校数(校) |
|---|----------|-----------|
| ア | 1203 | 0 |
| イ | 17943 | 3 |
| ウ | 45784 | 5 |
| エ | 1791 | 1 |

外務省 HP(2020年8月), 文部科学省 HP(2020年)より作成

- (5) 次の文章は、イギリス、ドイツ、アメリカ、ロシアの工業について述べた文章です。ドイツにあてはまるものを、次のア～エから1つ選び、記号で答えなさい。

- ア かつては北部の地域を中心に重化学工業が成長したが、近年では北緯 37 度以南の地域にも先端技術産業が進出している。
- イ かつては燃料となる石炭が産出される地域に工業地域が発展したが、燃料の中心が石炭から石油に変わったことで、工業地域は沿岸地域に立地するようになった。
- ウ かつては計画経済のもと、豊富な資源を利用して重化学工業が発達した。しかし生産性が低下し、経済の自由化が進み、資源の輸出量も増えている。
- エ かつては「世界の工場」と呼ばれていたが、第二次世界大戦後に植民地が相次いで独立したことで工業が停滞し、現在は資源の輸出も行っている。

- (6) 次の文章は国どうしの結びつきについて述べたものです。誤っているものを次のア～エから1つ選び、記号で答えなさい。

- ア イギリスは 1973 年に当時の EC に加盟したが、国民投票により EU から脱退した。
- イ トルコは EU 加盟を目指しているが、宗教や言語の違いなどから加盟に至っていない。
- ウ スイスは EU には加盟していないが、国際連合には加盟している。
- エ ロシア（旧ソ連）は冷戦が終結したことにより、国際連合に加盟した。

- (7) スイスは、みずから戦争を始めないこと、また他の国家間のいかなる戦争にも参加せず、中立を守ることが国際的に確立している国のひとつです。このような国を何というか答えなさい。
- (8) カタールは、産油国の利益を守る目的で、石油の生産量や価格の調整をするために1960年に結成された国際組織の一員です。この組織の名称を、アルファベットで答えなさい。
- (9) ネパールでは、国民の約8割が、ある民族宗教を信仰しています。この宗教を答えなさい。
- (10) 近年、ネパールなどの発展途上国を対象に、業者が公正な価格で農作物や工業製品を買い取り、生産者の収入を増やそうという取り組みが行われています。この取り組みで扱われる商品には下記のマークがつけられています。このマークを参考にして、この取り組みを、何というか、カタカナで答えなさい。なお、マークの一部を加工しています。



2 次の文章を読んで、あとの問いに答えなさい。

2021年は、東日本大震災の発生から10年、アメリカ同時多発テロから20年、ソ連解体やアパルトヘイトの撤廃から30年という節目の年にあたります。ソ連解体やアメリカ同時多発テロの発生により、世界の情勢は大きく変わりました。

2021年は、コロナと共生しながら、延期された東京五輪が開催されることになっています。

歴史的に見て、ずっと変わらずに維持されているものもありますが、新型コロナによる生活様式の変化のように、世の中があつという間に变化するものもあります。情報化社会といわれる時代に生きる受験生のみなさんには、社会の変化についていけるようアンテナを張っていて欲しいと思います。

(1) 昨年4月7日に政府は、埼玉県、千葉県、東京都、神奈川県、大阪府、兵庫県、福岡県の7都府県に新型コロナウイルス感染拡大防止策として「緊急事態宣言」を発令しました。その後、全国に宣言は拡大されました。

① この7都府県の域内にある、世界自然遺産を答えなさい。また、その世界自然遺産のある都府県名を答えなさい。

② この7都府県の域内で、日米和親条約と日米修好通商条約によって開港された港の組み合わせとして正しいものを、次のア～エから1つ選び、記号で答えなさい。

ア 下田・神戸 イ 箱館(函館)・下田 ウ 横浜・神戸 エ 東京・新潟

③ 次の表は東京都、埼玉県、兵庫県、福岡県の製造品出荷額(十億円)を示したものです。東京都にあてはまるものを、ア～エから1つ選び、記号で答えよ。

| | 総計 | 食料品 | 鉄鋼業 | 情報通信機械器具 |
|---|--------|-------|-------|----------|
| ア | 15,105 | 1,620 | 1,738 | 442 |
| イ | 12,683 | 1,783 | 274 | 277 |
| ウ | 9,250 | 992 | 858 | 12 |
| エ | 7,785 | 723 | 143 | 577 |

『2020 データブック オブ・ザ・ワールド』より作成

(2) 2011年の東日本大震災以降、日本の発電の内訳は大きく変化しました。次の表は、北海道電力、東北電力、東京電力、中部電力、北陸電力、関西電力、中国電力、四国電力、九州電力、沖縄電力の発電量の内訳（百万kWh）と使用電力量（百万kWh）を示したものです。中部電力にあてはまるものを、表中の**ア～オ**から1つ選び、記号で答えなさい。

| 2017 | 総発電量 | 水力 | 火力 | 原子力 |
|----------|---------|--------|---------|--------|
| ア | 196,668 | 12,212 | 184,384 | --- |
| イ | 116,672 | 8,549 | 108,077 | --- |
| 関西 | 94,535 | 13,761 | 67,855 | 12,908 |
| ウ | 63,504 | 4,645 | 43,261 | 14,500 |
| 東北 | 63,339 | 8,382 | 54,207 | --- |
| 中国 | 35,578 | 3,740 | 31,830 | --- |
| エ | 27,987 | 6,902 | 21,081 | --- |
| 北海道 | 23,048 | 3,228 | 19,701 | --- |
| オ | 19,212 | 2,297 | 13,042 | 3,871 |
| 沖縄 | 6,249 | --- | 6,247 | --- |

『2020 データブック オブ・ザ・ワールド』より作成

- (3) 2001 年は、国内で初の BSE(狂牛病)感染牛が確認され、国内で食の安全性に対する関心が高まりました。下の表は、牛肉、豚肉、たこ、さけ・ますの輸入額と、輸入相手国および金額による割合(上位 5 か国)をまとめたものです。牛肉にあてはまるものを表中の **ア～エ** から 1 つ選び、記号で答えなさい。

| | ア | イ | ウ | エ |
|---------|-----------------|-------------------|-----------------|------------------|
| 輸入額(億円) | 4,868 | 3,839 | 2,257 | 424 |
| 1 位(%) | アメリカ (49.2) | オーストラリア (49.2) | チリ (55.3) | モーリタニア (35.5) |
| 2 位(%) | カナダ (24.0) | アメリカ (43.1) | ノルウェー (21.0) | モロッコ (23.8) |
| 3 位(%) | スペイン (12.1) | ニュージーランド (2.9) | ロシア (12.0) | 中国 (21.3) |
| 4 位(%) | デンマーク (11.6) | カナダ (2.7) | アメリカ (6.8) | ベトナム (8.6) |
| 5 位(%) | メキシコ (9.7) | メキシコ (1.9) | カナダ (2.0) | セネガル (2.8) |

『2020 データブック オブ・ザ・ワールド』より作成

- (4) 1991 年には雲仙普賢岳で大噴火が発生し、40 名の犠牲者が出ました。この年の噴火では、火山噴火にともない、高温のガスと火山噴出物が高速で流下する現象が発生しました。この現象を何といいますか。漢字 3 字で答えなさい。
- (5) 近年では、多くのエネルギーを使って外国から輸入した食品ではなく、地元の産物でまかなおうとする考え方のもと、地域で生産したものをその地域で消費するような考え方が広まってきました。このような考え方を何といいますか。漢字 4 字で答えなさい。
- (6) 近年は資源を守り、多様性の維持を保持しようという考え方が強まっています。そのような中で、漁業分野においては、「とる漁業」ではなく「育てる漁業」への転換が進められてきています。「育てる漁業」の中でも、人工的に育てた稚魚などを海や湖に放流し、自然のなかで育った魚を大きくなった後で漁獲する漁業を何といいますか。漢字 4 字で答えなさい。

3 次の短文A～Eの人物に関する文章を読んで、あとの問いに答えなさい。

短文A 私は、兄と協力して天皇を政治の中心とする改革を行いました。この頃、唐と新羅が連合し、百済を滅ぼしました。兄の死後、甥^{おひ}と争い勝利した私は、天皇に即位し、都を飛鳥にもどし、天皇の地位を高め、歴史書をまとめるように命じました。私の死後、私の妻が、新しい都（ あ ）を造営しました。

短文B 私の統治期間に、キリシタンを中心とした一揆が起こりました。私は、この一揆を鎮圧した後、（ い ）船の来航を禁止し、中国とオランダの商館を長崎の出島に移しました。こうして貿易を統制する鎖国体制を完成させるだけでなく、宗門改帳を作成するなど宗教に対する統制も強めました。

短文C 私が王になる前、男の王が統治していましたが、国が乱れたため女子である私が王になりました。私は、中国に使いを送り、中国の皇帝から「（ う ）」の称号と金印をもらいました。中国の歴史書では、私は30ほどの小国（クニ）を従えていたとされています。しかし、私が都としていた場所について、現在の研究ではまだ確定していません。

短文D 私は、上皇と天皇の対立を利用し、二つの内乱を通じて権力を握りました。私は後白河上皇の院政のもと、武士として初めて（ え ）になりました。私は、中国との貿易で利益をあげるために兵庫の港を整備しました。私は、娘を天皇の后にして権力を強め、私の一族も高い地位につき、栄えました。

短文E 私が王であった時代、中国との戦争に勝利し、条約を結んで中国の植民地化を進めました。中国だけではなく、インド大反乱を鎮圧した後、インドの植民地化を進め、私はインドの皇帝となりました。また、エジプトのスエズ運河の株を買収するなどエジプトへの内政干渉もすすめました。私の国だけでなく、他のヨーロッパの国もアジアやアフリカなどを植民地にしました。このように軍事力を背景に海外に領土を拡大する政策を（ お ）主義といいます。

(1) (あ) ~ (お) に入る適語を答えなさい。ただし (お) は漢字 2 字で答えなさい。

(2) 短文Aの人物と兄が行った改革の内容として正しいものをア～エから 1 つ選び、記号で答えなさい。

- ア 蘇我蝦夷・入鹿親子を倒し、律令体制の基礎を築いた。
- イ 遣隋使を派遣し、多くの留学生や僧に隋の政治や文化を学ばせた。
- ウ 国ごとに国分寺や国分尼寺を、都には東大寺を建立した。
- エ 十七条の憲法を制定し、豪族に役人としての心得を示した。

(3) 短文Bの人物について述べた文として正しいものをア～エから 1 つ選び、記号で答えなさい。

- ア 大名が 1 年おきに領地と江戸を往復する、参勤交代の制度を定めた。
- イ 山田長政を使者として中国に派遣した。
- ウ 儒学者の新井白石を登用し、長崎貿易を制限した。
- エ 幕府の領地に初めてキリスト教禁止令を出した。

(4) 短文Bの人物が活躍した 17 世紀頃の日本の文化について述べた文として正しいものをア～エから 1 つ選び、記号で答えなさい。

- ア 千利休が、茶の湯を完成させた。
- イ 日光東照宮が建てられた。
- ウ 観阿弥・世阿弥親子が、能を発展させた。
- エ 曲亭（滝沢）馬琴が、『南総里見八犬伝』などの長編小説を書いた。

(5) 短文Cの人物が活躍していた頃の中国の様子について述べた文として最も適当なものをア～エから 1 つ選び、記号で答えなさい。

- ア 黄河流域に殷という国がおこり、優れた青銅器を使用していた。
- イ 孔子が、仁と礼を基本とした政治をするべきだとする儒学を説いた。
- ウ 漢とローマは、シルクロードを通して交流をもった。
- エ 後漢が滅び、三国に分かれて争う三国時代であった。

(6) 短文Dの人物が関わった2つの内乱の組合せとして正しいものをア～カから1つ選び、記号で答えなさい。

- ア 前九年合戦と保元の乱
- イ 前九年合戦と後三年合戦
- ウ 前九年合戦と平治の乱
- エ 後三年合戦と平治の乱
- オ 後三年合戦と保元の乱
- カ 保元の乱と平治の乱

(7) 短文Eの人物が関わったインド大反乱が発生した頃の日本の様子について述べた文として正しいものをア～エから1つ選び、記号で答えなさい。

- ア 田沼意次が、商工業者が株仲間を作ることを奨励していた。
- イ 伊能忠敬が、正確な日本地図を作成した。
- ウ 井伊直弼が桜田門外の変で暗殺され、幕府の統治がゆらいだ。
- エ 12歳未満の就業を禁止した、工場法が制定された。

4 20世紀には世界の多くの国を巻き込む戦争が、2度おこりました。この第一次世界大戦・第二次世界大戦および大戦間にあった出来事に関して、あとの問いに答えなさい。

(1) 第一次世界大戦は、1914年～1918年にかけておこりました。第一次世界大戦勃発以前に日本でおこった出来事として誤っているものをア～エから1つ選び、記号で答えなさい。

ア 伊藤博文が、立憲政友会を結成した。

イ 幸徳秋水が、天皇暗殺を計画したとして逮捕された。

ウ 部落解放をめざす全国水平社が、京都で結成された。

エ 藩閥政府をたおし、憲法に基づく政治を守ろうとする運動（第一次護憲運動）がおこった。

(2) 第一次世界大戦は、イギリス・フランス・ロシアの三国協商とドイツ・オーストリア・イタリアの三国同盟の対立からおこりました。第一次世界大戦でドイツ・オーストリア側にとって参戦した国の組合せとして正しいものをア～カから1つ選び、記号で答えなさい。

ア オスマン帝国とブルガリア

イ セルビアとブルガリア

ウ 日本とスイス

エ オスマン帝国とスイス

オ ブルガリアと日本

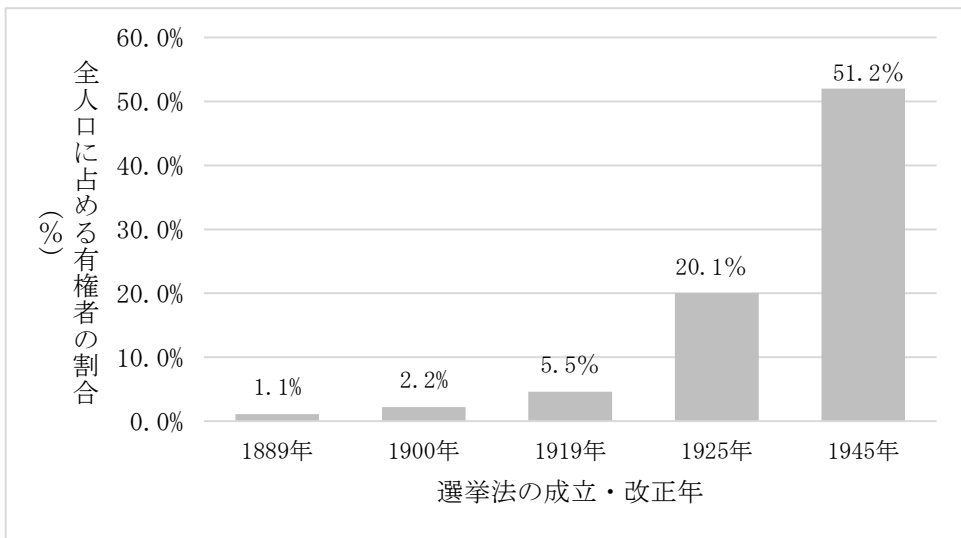
カ オスマン帝国とセルビア

(3) ベルサイユ条約で民族自決の原則が認められたのはヨーロッパのみであったため、アジア各国は不満が高まり、民族運動が活発に行われるようになりました。次ページに描かれている絵は、ある国でおこった民族運動の様子を表しています。この運動の名称と運動が起こった理由の組合せとして正しいものをア～エから1つ選び、記号で答えなさい。



- | | | | |
|---|---------|----|--------------------------|
| ア | 三・一独立運動 | 理由 | 東学の教えに基づいて日本の支配に反対するため |
| イ | 三・一独立運動 | 理由 | 朝鮮総督である伊藤博文の圧政に対して抗議するため |
| ウ | 五・四運動 | 理由 | 袁世凱が調印したベルサイユ条約に反対するため |
| エ | 五・四運動 | 理由 | 山東省の利権の返還が認められなかったから |

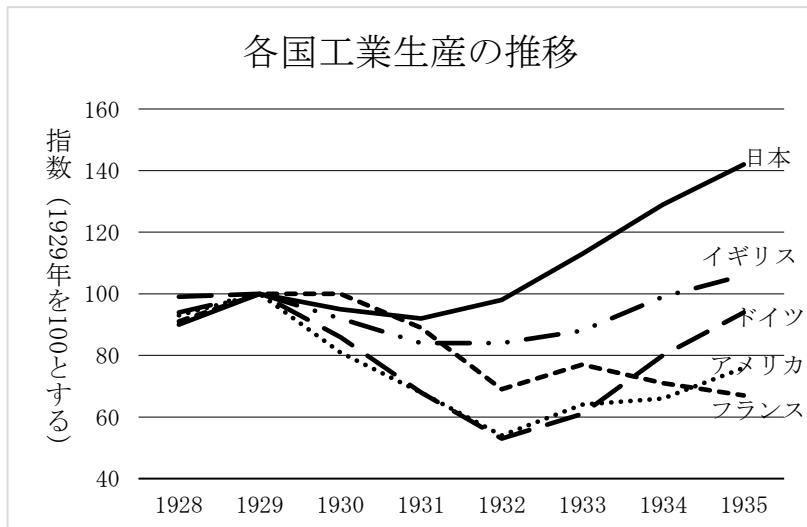
(4) 次のグラフは有権者の増加を表しています。1925年に選挙法が改正され、1928年に実施された衆議院議員選挙では有権者が増加しています。この選挙で有権者が増加した理由として正しいものをア～エから1つ選び、記号で答えなさい。



『完結昭和国政総覧』より作成

- ア 平塚らいてうを中心とする女性の政治参加を求める運動により, 女性の参政権を認めた普通選挙法が成立したから。
- イ 大正デモクラシーの運動が盛んとなり, 女性の参政権を認めた普通選挙法が成立したから。
- ウ 日本共産党の要求で, 納税額による制限を廃止した男子普通選挙法が成立したから。
- エ 第二次護憲運動の結果うまれた内閣が, 納税額による制限を廃止した男子普通選挙法を成立させたから。

(5) 下のグラフは, 主な国の工業生産を表しています。1929 年以降, アメリカ発の恐慌が世界に広がりました。このグラフを見ると日本が, 他の国に比べて早く世界恐慌の影響を脱していることが分かります。この理由として当てはまらないものをア～エから 1 つ選び, 記号で答えなさい。



今田寛之(1988)「1929～33年世界大恐慌について」日本銀行金融経済研究所『金融研究』第7巻第1号, p.116の図表より作成。

なお, 上記論文の図表の引用元は次の通り。Fearon, P., "The Origins and Nature of the Great Slump 1929-1932", *The Economic History Society 1979*, Macmillan Education Ltd., 1979.

- ア 政府が軍需品の生産などを保護し, 重化学工業を発展させたため。
- イ 満州事変をおこし, 満州をはじめ大陸に進出したため。
- ウ 配給制が始まり, 国民に我慢を強制したため。
- エ 外国通貨に対して円の価値が下がり, 輸出が増えたため。

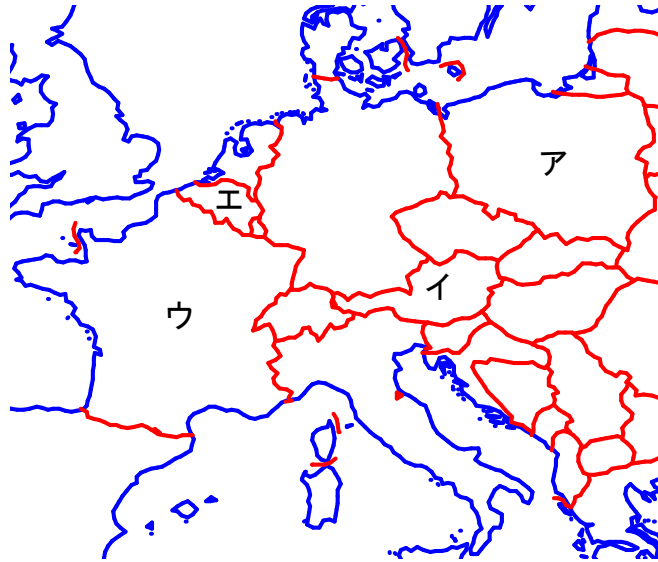
(6) 次の写真は、イタリアの指導者ムッソリーニとドイツの指導者ヒトラーの写真です。この二国が行ったことの組合せとして正しいものをア～クから1つ選び、記号で答えなさい。



- A ワイマール憲法を停止して、独裁政治を行った。
- B テネシー川にダムを建設するなど失業者対策として公共事業を行った。
- C 国際協調を主張し、国際連盟に加盟した。
- D エチオピアを侵略し、併合した。


- ア ドイツーA イタリアーC
- イ ドイツーA イタリアーD
- ウ ドイツーB イタリアーC
- エ ドイツーB イタリアーD
- オ ドイツーC イタリアーA
- カ ドイツーC イタリアーB
- キ ドイツーD イタリアーA
- ク ドイツーD イタリアーB

- (7) 1939年に第二次世界大戦が occurred. 第二次世界大戦が occurred 直接の原因は、ドイツがある国に侵攻したことです。ある国として正しいものを次の地図中のア～エから1つ選び、記号で答えなさい。



国境線は、現在のものです

- (8) 次の写真は真珠湾攻撃の様子です。1941年に日本は真珠湾攻撃を行い太平洋戦争をおこしました。太平洋戦争中のできごとに当てはまらないものをア～オからすべて選び、記号で答えなさい。



- ア 文科系の学生などを軍隊に召集して学徒出陣をおこなった。
- イ 議会の承認なしに労働力や物資を動員できる国家総動員法を制定した。
- ウ 都市に住んでいる小学生を農村に集団で疎開させた。
- エ インドネシアを占領し、住民に日本語教育を強制した。
- オ 盧溝橋事件をきっかけに日中戦争が occurred, 南京を占領した。

(9) 第二次世界大戦後、ソ連を中心とする社会主義国家とアメリカを中心とする資本主義国家が対立しました。この対立は冷戦（冷たい戦争）と呼ばれていました。この対立は 1989 年のマルタ会談で終結が宣言されました。マルタ会談の翌年におこった世界の出来事として正しいものをア～エから 1 つ選び、記号で答えなさい。



- ア 東西ドイツの統一
- イ ソ連の解体
- ウ イラク戦争
- エ ヨーロッパ連合（EU）の発足

5 次の会話文を読んで、あとの問いに答えなさい。

ケン：人が生まれつき持っている権利ってどんなものなの？ 誰かから与えられたものではないよね。

祖父：おお、よくわかっているのお！

ケン：具体的にどんな権利なの？

祖父：自由権、平等権、社会権・・・あと、なんじゃったかな・・・？

ケン：しっかりしてよ、じいちゃん。

祖父：そう、あと A と B じゃわい。

ケン：なるほど、それが憲法に明記されているわけだね。 B はもしも人権が侵害されてしまった時に、その救済を国に求められる制度や権利だよ。

祖父：そうじゃ。 A は国民一人ひとりが政治に参加する権利じゃ。憲法の中でも特に憲法第11条は大切なんじゃよ。

ケン：じいちゃんは覚えているの？

祖父：もちろんじゃ。

ケン：じゃ、言ってみてよ。

祖父：よし、いくぞ！憲法第11条！「国民は、すべての C の享有を妨げられない。この憲法が保障する C は、侵すことのできない永久の権利として、現在及び将来の国民に与えられる。」

ケン：すごい！

祖父：えっへん！！第12条も言えるぞい。「この憲法が国民に保障する自由及び権利は、国民の D によつて、これを保持しなければならない。又、国民は、これを濫用してはならないのであつて、常に E のためにこれを利用する責任を負ふ。」

ケン：すごすぎるよ、じいちゃん！

祖父：つまり、権利を行使するのはいいが、むやみやたらと使つてはダメなんじゃ。例えば「表現の自由」があるからといって、他人の誹謗・中傷はしてはいけないんじゃよ。あくまで E に反しない範囲で使えるわけじゃ。

ケン：自由には責任がともなうことも忘れちゃだめだよ。

祖父：それから憲法に明記されていない人権もあるんじゃ。

ケン：へえ、そうなんだ・・・

祖父：改憲の議論があるが、ケンが大人になつても、憲法について話し合つて欲しいのお。

ケン：うん、じいちゃんも長生きしてね。

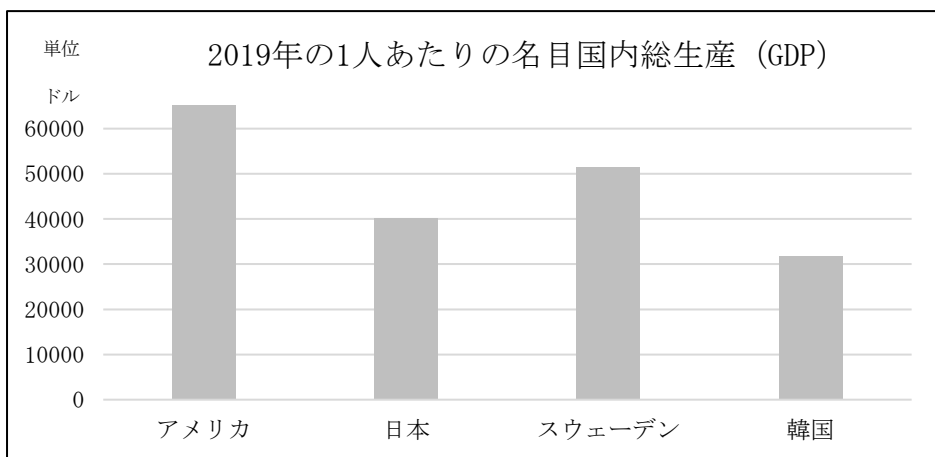
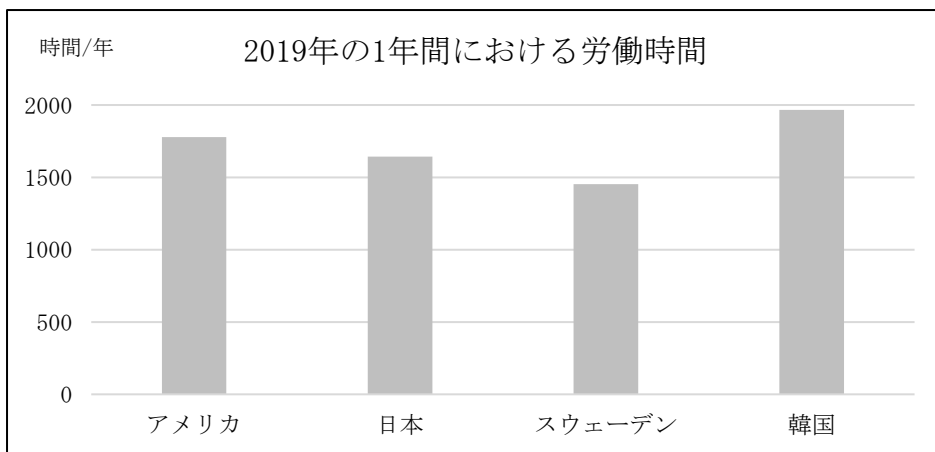
- (1) 文中の空欄 **A** と **B** に当てはまる権利を解答欄にしたがって、漢字 2 字で答えなさい。
- (2) 文中の空欄 **C** と **D** に当てはまる語句を答えなさい。
- (3) 文中の空欄 **E** に当てはまる語句を下の **ア～エ** から 1 つ選び、記号で答えなさい。
ア 幸福追求 **イ** 公共の福祉 **ウ** 恒久の平和 **エ** 国民の信託
- (4) 下線部④について、憲法の保障する平等権にあてはまらないものを下の **ア～エ** から 1 つ選び、記号で答えなさい。
ア LGBT の人への権利の保障として、宝塚市では同性カップルを結婚に相当する関係と認める「宝塚市パートナーシップの宣誓の取扱いに関する要綱」が施行された。
イ 日本社会の歴史的発展の過程において形成された身分的階層構造に基づく差別によって発生した同和問題（部落差別問題）の解消は、国の責務で国民的な課題であり、法整備がなされている。
ウ ノーマライゼーションの実現が求められているなか、障がいがある理由で就職しにくいなどの差別が残っているため、「障害者差別解消法」が制定された。
エ 外国人も平等権の対象となるため、選挙権や被選挙権、国民年金の受給や国民健康保険の加入が認められており、納税も日本人と同様にその対象となる。
- (5) 下線部⑤について、以下の条文は憲法の引用です。以下の空欄 **あ** ・ **い** に当てはまる数字ならびに語句を答えなさい。数字は算用数字でかまいません。

憲法第 **あ** 条

- ① すべて国民は、 **い** の生活を営む権利を有する。
 ② 国は、すべての生活部面について、社会福祉、社会保障及び公衆衛生の向上及び増進に努めなければならない。

- (6) 下線部⑥について、次ページのグラフはアメリカ・日本・スウェーデン・韓国の 2019 年の 1 年間における労働時間と 1 人当たりの GDP（生み出した価値のこと、単位はドル）を示した

ものです。このグラフから読み取れることとして正しいものを次のア～エから1つ選び、記号で答えなさい。



『GLOBAL NOTE』より作成

- ア 労働時間と1人あたりの名目国内総生産は相関関係があり、労働時間が多ければ多いほど1人あたりの名目国内総生産も上昇している。
- イ 日本は1人あたりのGDPが韓国よりも上回っているが、スウェーデンを下回っており、労働時間は韓国・スウェーデンのどちらよりも多い時間になっている。
- ウ スウェーデンは労働時間が4か国の中でもっとも少ない時間になっているが、1人あたりのGDPは日本に次ぐ2番目の大きさになっており、効率の良い生産となっている。
- エ アメリカは労働時間が年間1000時間を超え、1人あたりの名目国内総生産(GDP)は60000ドルを上回っており、労働者一人あたりが生み出す成果(労働生産性)としても日本より高い。

(7) 下線部㉔について、憲法に明記されていない人権として「新しい人権」がある。「新しい人権」について述べられたものとして正しいものを、下のア～エから1つ選び、記号で答えなさい。

- ア 知る権利は、国や地方公共団体が自分たちの活動をなるべく公開すべきであるという考えにもとづいており、1999年に情報公開法が制定され、その活動内容についての情報が公開されている。
- イ 撮影された写真をみだりに公開されると、つきまといにあうといった被害を受ける可能性があるため、プライバシー権が認められているが、SNSに友達の写真を無断で掲載することは含まれてはいない。
- ウ アフリカ人女性として2004年に初のノーベル平和賞を受賞したケニアの環境保護活動家ワンガリ・マータイ氏が「MOTTAINAI（もったいない）」という日本の言葉に感銘を受け、世界に広めたことから日本でも初めて環境に関する法律が制定された。
- エ 自己決定権とは、他人に干渉されず、自分で決定できる権利を指すが、自らの生死の判断も自ら決定できるとされ、安楽死が日本の法律で認められるようになった。

(8) 下線部㉕について、日本国憲法の改正手続きについて述べられたものとして正しいものを下のア～エから1つ選び、記号で答えなさい。

- ア 憲法改正の承認には、特別の国民投票又は国会の定める選挙の際に行われる投票において過半数の賛成を必要とする。
- イ 憲法改正の発議は、衆議院と参議院の総議員の過半数の賛成で行う。
- ウ 憲法改正の発議に際して、参議院の賛成が得られない場合には、衆議院において3分の2以上の賛成で発議することができる。
- エ 憲法改正の公布は、国民の名において内閣総理大臣が行う。

6 次の文を読んで、あとの問いに答えなさい。

2020年8月6日、広島はアメリカ合衆国による原爆投下から75回目の「原爆の日」を迎えた。広島市では「原爆死没者慰霊式・平和祈念式」が新型コロナウイルスの影響で規模を縮小して開かれた。広島市長は平和宣言で「1945年8月6日、広島は1発の原子爆弾により破壊し尽くされ、『75年間は草木も生えぬ』と言われました。しかし、広島は今、復興を遂げて、世界中から多くの人々が訪れる④平和を象徴する都市になっています。」と語った。グテーレス国連事務総長は動画でメッセージを寄せ、⑤核開発競争の可能性があると警告。すべての国が核兵器を廃棄すべきだと述べた。

ヨーロッパでの⑥第二次世界大戦は1945年5月、ドイツの降伏によって終わったが、アジアでは日本が連合国軍と戦い続けていた。鈴木貫太郎⑦内閣が最後の通告を黙殺すると発表したことから、アメリカは原爆を投下することで日本の降伏を早められると考えた。8月6日、アメリカ軍は「リトル・ボーイ」と呼ばれる原爆を広島に落とした。原爆が初めて戦争で使われたのはこの時である。大規模な爆発で広島市は焼き払われ、少なくとも7万人がその瞬間に殺された。その後、放射能汚染によって数万人が命を落とした。日本がすぐに降伏しなかったため、アメリカは3日後の9日に、「ファットマン」という別の種類の原爆を長崎市に投下した。死者数の記録は推計だが、広島市の人口35万人のうち14万人が、長崎では少なくとも7万4000人が原爆で亡くなったとみられている。

歴史上、実験以外の理由で原爆が投下されたのは、この2回のみである。日本は1945年8月14日にポツダム宣言の受諾を決定した。しかし、日本はこの前にすでに降伏寸前だったという指摘や、原爆があまりに多くの市民を殺したという非難の声もあがっている。

⑧戦後、広島は平和の街として復興し、世界中で核廃絶の運動を行っている。日本には、唯一の戦争被爆国として、核兵器のない世界の実現に向けて国際社会の取り組みをリードしていく責務がある。近年の国際的な⑨安全保障環境は厳しく、また2017年に採択された核兵器禁止条約を取り巻く対応に見られるように、核軍縮の進め方をめぐっては、核保有国と非核保有国の間のみならず、核兵器の脅威にさらされている非核保有国とそうでない非核保有国の間においても立場の違いが見られる。このような状況の下、核軍縮を進めていくためには、核兵器の非人道性と安全保障の観点を考慮し、核保有国の協力を得ながら、現実的かつ実践的な取り組みを粘り強く進めていく必要がある。

(1) 下線部㉔について、日本は憲法で平和主義を主張しています。日本国憲法に**明記されていないもの**を、下のア～エから1つ選び、記号で答えなさい。

ア 政府の行為によって再び戦争の惨禍が起こらないようにすることを決意する

イ 陸海空軍その他の戦力はこれを保持しない

ウ 戦争での使用を目的とした核兵器の使用、実験を禁止する

エ 武力による威嚇、武力の行使は、国際紛争を解決する手段としては、永久にこれを放棄する

(2) 下線部㉕について、核兵器を持っていない国として正しいものを、下のア～エから1つ選び、記号で答えなさい。

ア 北朝鮮

イ インド

ウ 中国

エ ドイツ

(3) 下線部㉖について、下のア～エの第二次世界大戦前の人権に関するできごとを、古いものから年代順に正しく配列しなさい。

ア ドイツでは、世界で初めて社会権が規定された憲法が制定された。

イ イギリスでは、国王といえども正当な法律や裁判によらなければ逮捕や財産没収などをしてはならないという取り決めがなされた。

ウ フランスでは、国民主権・人権の不可侵・所有権の保障・権力分立など革命後の政治方針が宣言された。

エ アメリカでは、人は生まれながらにして自由や平等などの権利をもつことが宣言され、生命・財産の権利などがうたわれた。

(4) 下線部㉗について、日本の内閣の仕事を下のア～カから**すべて**選び、記号で答えなさい。

ア 予算案の作成

イ 条約の承認

ウ 最高裁判所長官の任命

エ 法律の制定

オ 天皇の国事行為に対する助言

カ 弾劾裁判

(5) 下線部㉘について、戦後の日本の政治史について**誤っているもの**を、下のア～エから1つ選び、記号で答えなさい。

ア 田中角栄内閣のときに日中共同声明が結ばれ、中華人民共和国と正式に国交を樹立した。

イ 小泉純一郎内閣のときに三公社の民営化がなされ、日本国有鉄道はJRになった。

ウ 安倍晋三内閣のときに防衛庁は防衛省に格上げされた。

エ 2009年に自由民主党から政権が交代し、民主党中心の連立政権として鳩山由紀夫内閣が組閣された。

(6) 下線部㊸について、日本では戦後に初めて男女平等の普通選挙が実施されました。日本の選挙制度に関して述べられたものとして正しいものを、下のア～エから1つ選び、記号で答えなさい。

- ア 衆議院議員選挙では、戦後すぐに小選挙区比例代表並立制が採用されていたが、一票の格差問題を受けて選挙区選挙と比例代表制へと変更されている。
- イ 参議院は衆議院をチェックする機関であるため「良識の府」とも呼ばれ、近年の投票率も衆議院議員選挙よりも高い水準を保っている。
- ウ 2016年6月から選挙権を得る年齢が満20歳から満18歳となり、国政選挙の投票率は改正前と比べて1.5倍に改善された。
- エ 公職選挙法という法律で選挙の規則が定められており、選挙を公正中立に行う目的で選挙管理委員会が置かれている。

(7) 下線部㊸について、我が国の防衛方針は、敵国を攻撃することなく、もっぱら相手側の攻撃から自国領土を防衛することに徹するというものです。この方針を何といいますか。漢字4字で答えなさい。

2021年度 高等学校入学試験(A日程)

社会科解答用紙

1 (1) (2) (3)

(4) (5) (6)

(7) (8) (9)

(10)

小計

2 (1) ①遺産名 ①都府県名 ②

③ (2) (3)

(4) (5) (6)

小計

3 (1) あ い う

え お (2)

(3) (4) (5)

(6) (7)

小計

4 (1) (2) (3)

(4) (5) (6)

(7) (8) (9)

小計

5 (1) A 権 B 権 (2) C

D (3) (4)

(5) あ い

(6) (7) (8)

小計

6 (1) (2)

(3) → → → (4)

(5) (6) (7)

小計

| | | | |
|------|--|----|--|
| 受験番号 | | 総点 | |
|------|--|----|--|

2021年度 高等学校入学試験(A日程)

社会科解答用紙

- 1** (1) (2) (3)
- (4) (5) (6)
- (7) (8) (9)
- (10)
- 小計

- 2** (1)
- (2) (2) (3)
- (4) (5) (6)
- 小計

- 3** (1)
- (2)
- (3) (4) (5)
- (6) (7)
- 小計

- 4** (1) (2) (3)
- (4) (5) (6)
- (7) (8) (9)
- 小計

- 5** (1) (2)
- (3) (4)
- (5)
- (6) (7) (8)
- 小計

- 6** (1) (2)
- (3) (4)
- (5) (6) (7)
- 小計

| | | | |
|------|--|----|--|
| 受験番号 | | 総点 | |
|------|--|----|--|